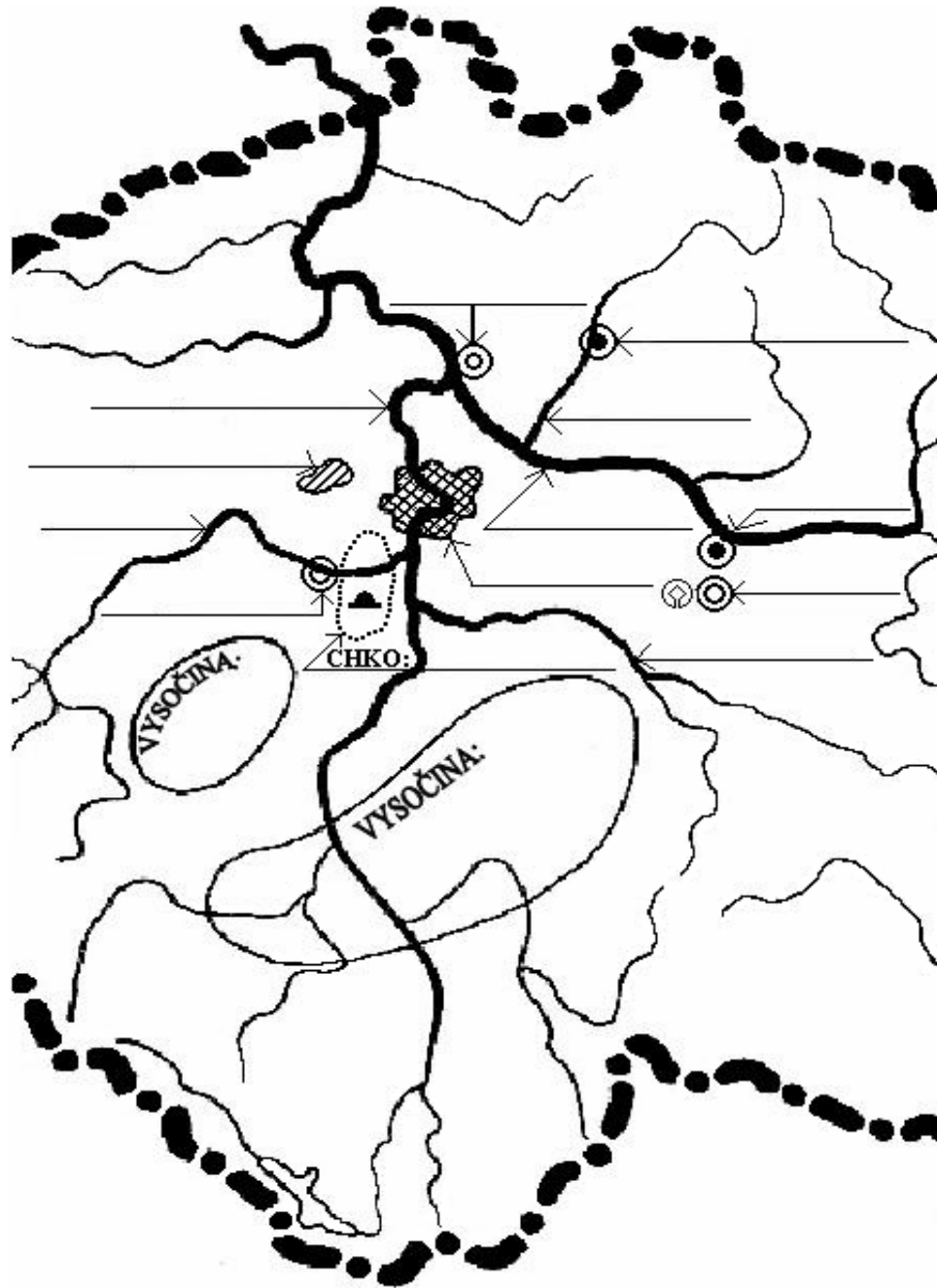
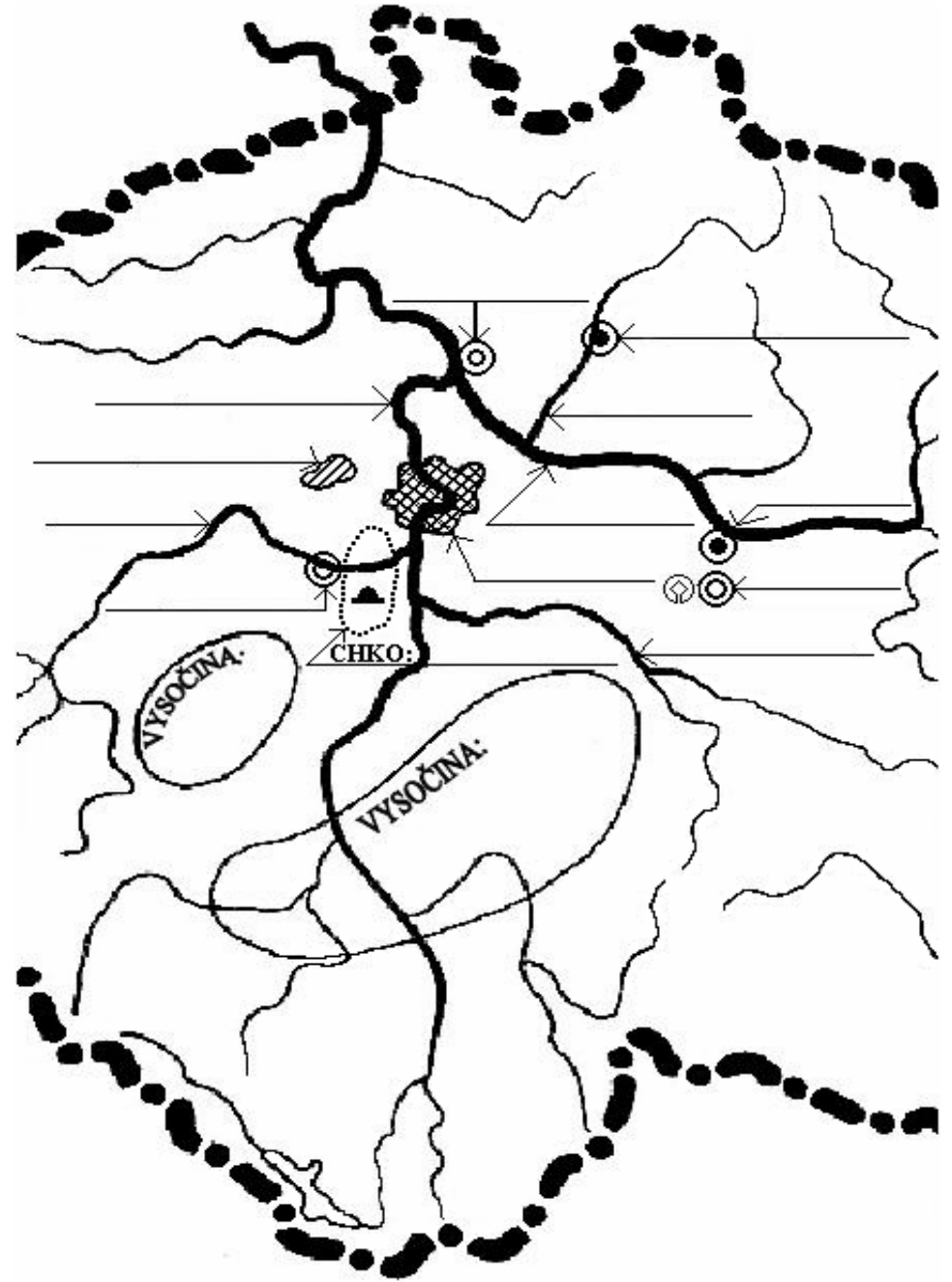


1. STŘEDNÍ ČECHY

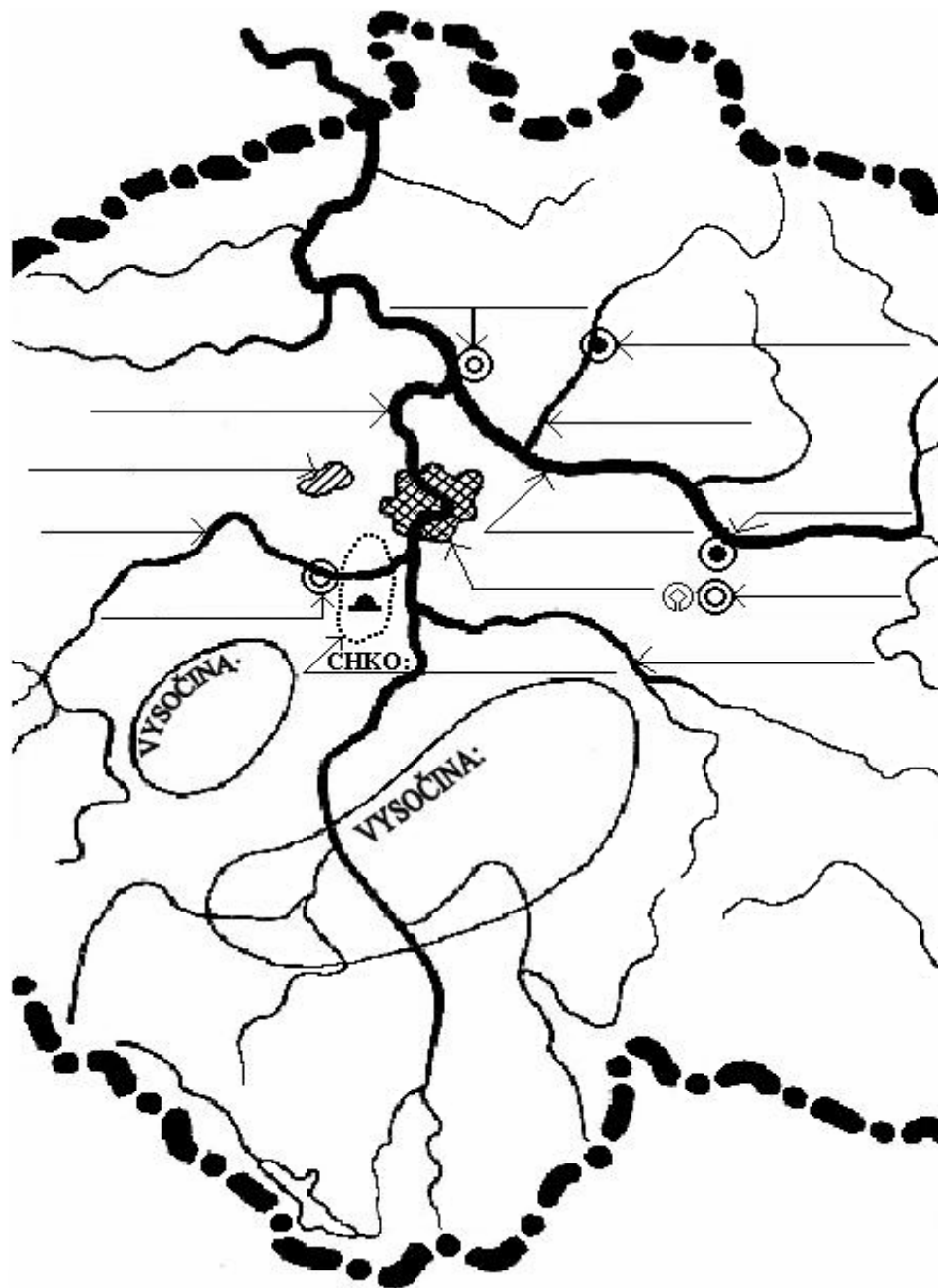


1. STŘEDNÍ ČECHY



# 1. STŘEDNÍ ČECHY

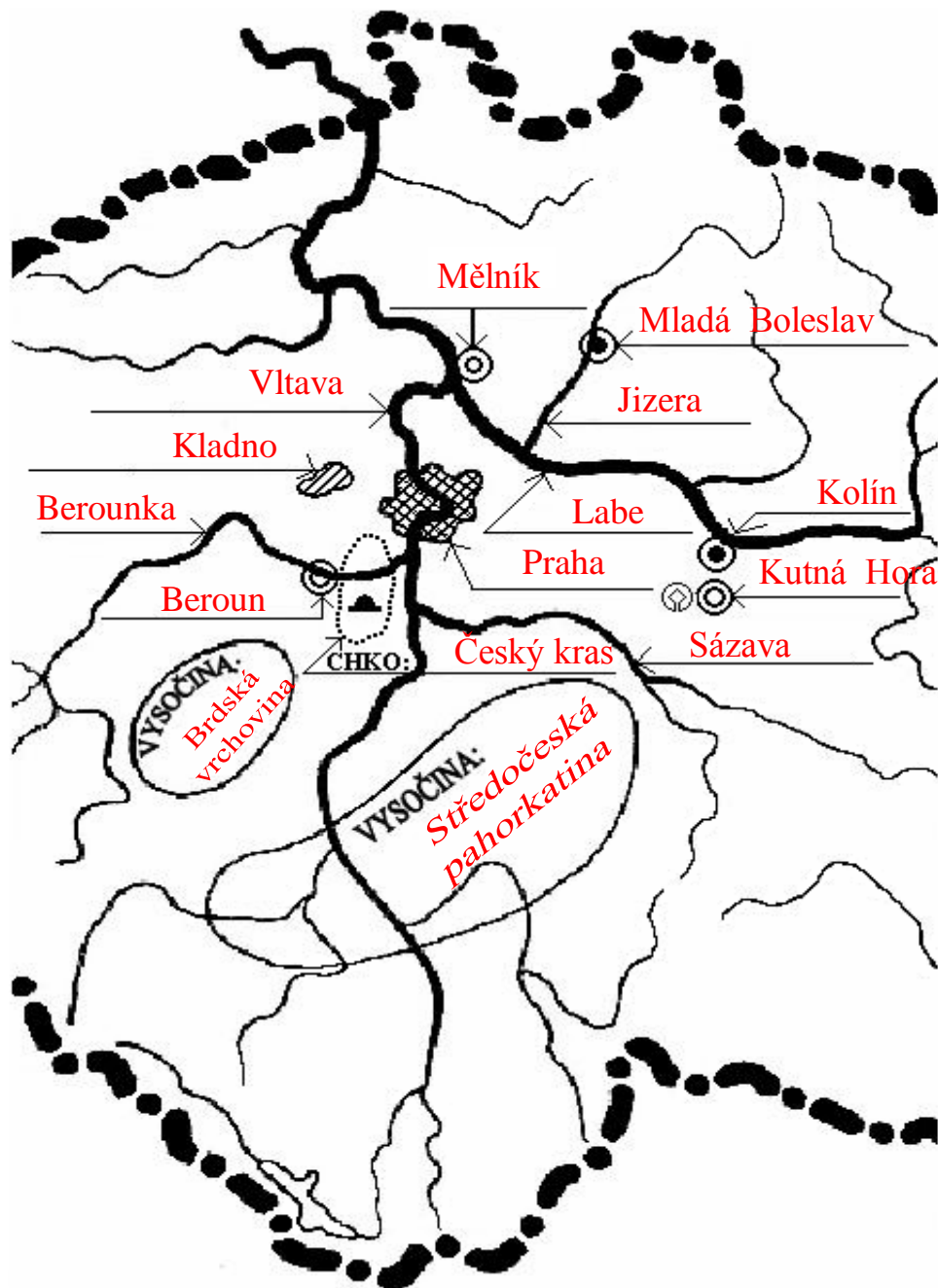
Jméno : \_\_\_\_\_ známka: \_\_\_\_\_



1. Doplň do mapky města: Beroun, Kladno, Kolín, Kutná Hora, Mělník, Mladá Boleslav, Praha. 7
2. Dopiš řeky: Berounka, Jizera, Labe, Sázava, Vltava. 5
3. Ve středních Čechách leží nížina \_\_\_\_\_. 1
4. Doplň do mapky názvy vysočin. 2
5. Doplň do mapy název CHKO, kde leží jeskyně \_\_\_\_\_ a hrad \_\_\_\_\_. 3
6. Prahou protéká řeka \_\_\_\_\_. U města Mělník se vlévá řeka \_\_\_\_\_ do řeky \_\_\_\_\_. Řeka Jizera je \_\_\_\_\_ přítokem řeky Labe. Řeka Berounka je \_\_\_\_\_ přítokem řeky Vltavy. Střední Čechy odvodňuje řeka \_\_\_\_\_. 6
7. Na Kladensku se těží \_\_\_\_\_, u Berouna se těží \_\_\_\_\_, u Mělníka se pěstuje \_\_\_\_\_. 3
8. Automobilka Škoda je ve městě \_\_\_\_\_. Chrám sv.Barbory je ve městě \_\_\_\_\_, kde se kdysi těžilo stříbro. Severně od Prahy leží hora \_\_\_\_\_, na které je rotunda. Obec Lipany leží od Prahy \_\_ km směrem \_\_\_\_\_. Roku \_\_\_\_\_ zde byli poraženi \_\_\_\_\_. 7

celkem bodů: 34

# 1. STŘEDNÍ ČECHY



Jméno : \_\_\_\_\_ známka: \_\_\_\_\_

1. Doplň do mapky města: Beroun, Kladno, Kolín, Kutná Hora, Mělník, Mladá Boleslav, Praha.
2. Dopiš řeky: Berounka, Jizera, Labe, Sázava, Vltava.
3. Ve středních Čechách leží nížina **Polabská** .
4. Doplň do mapky názvy vysočin.
5. Doplň do mapy název CHKO, kde leží jeskyně **Koněpruské** a hrad **Karlštejn** .
6. Prahou protéká řeka **Vltava** . U města Mělník se vlévá řeka **Vltava** do řeky **Labe** . Řeka Jizera je **pravým** přítokem řeky Labe. Řeka Berounka je **levým** přítokem řeky Vltavy. Střední Čechy odvodňuje řeka **Labe** .
7. Na Kladensku se těží **černé uhlí** , u Berouna se těží **vápenec** , u Mělníka se pěstuje **vinná réva** .
8. Automobilka Škoda je ve městě **Mladá Boleslav** . Chrám sv.Barbory je ve městě **Kutná Hora** , kde se kdysi těžilo stříbro. Severně od Prahy leží hora **Říp** , na které je rotunda. Obec Lipany leží od Prahy **35** km směrem **východ** . Roku **1434** zde byli poraženi **husité** .

celkem bodů: