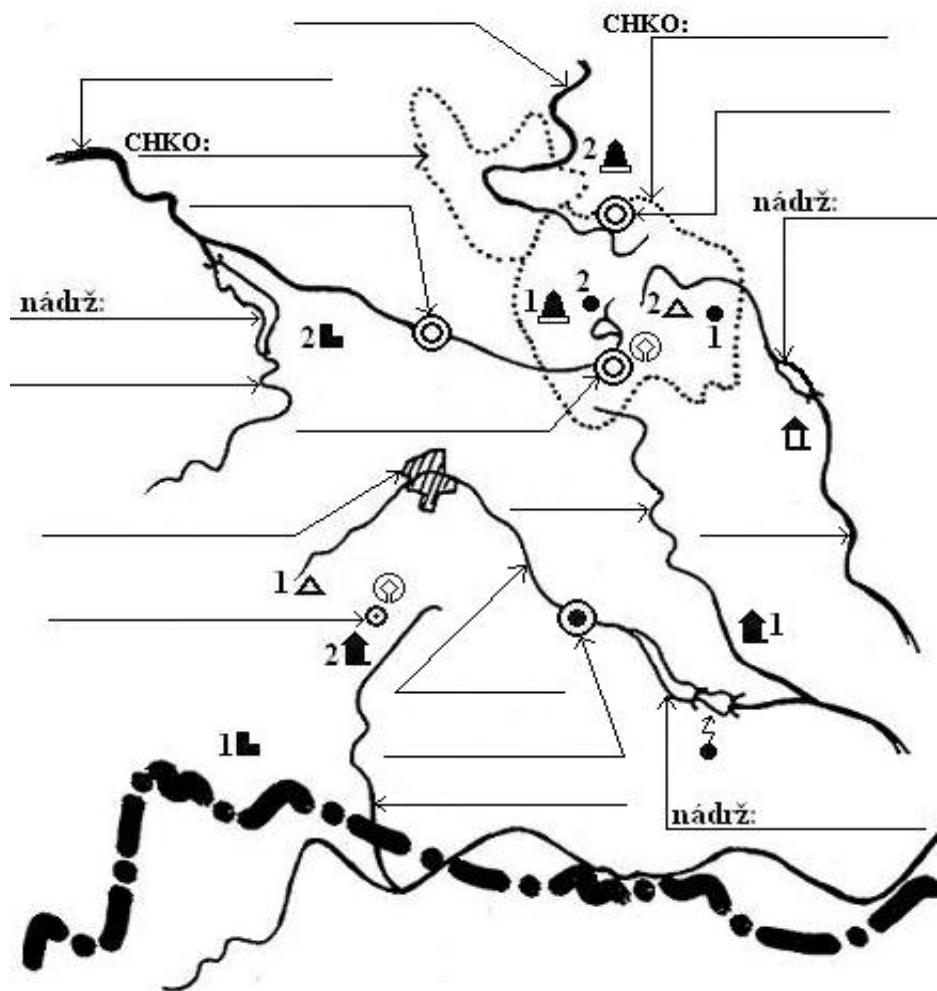
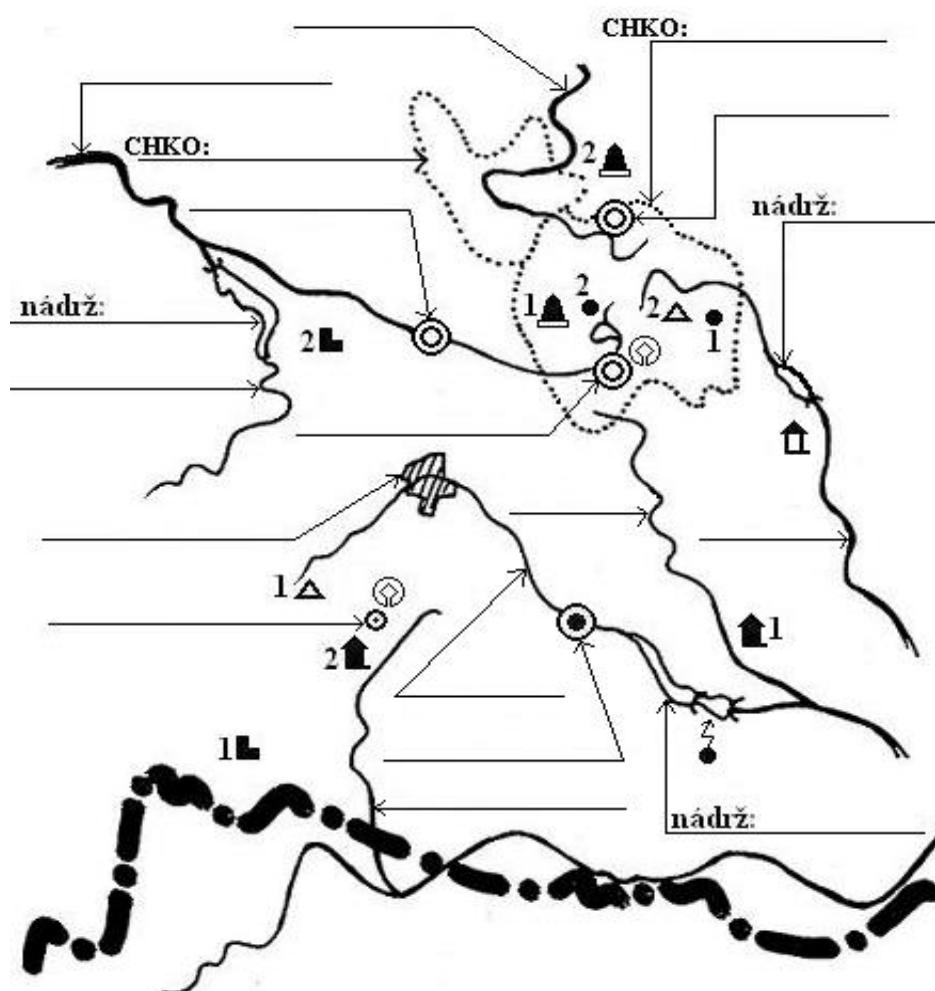


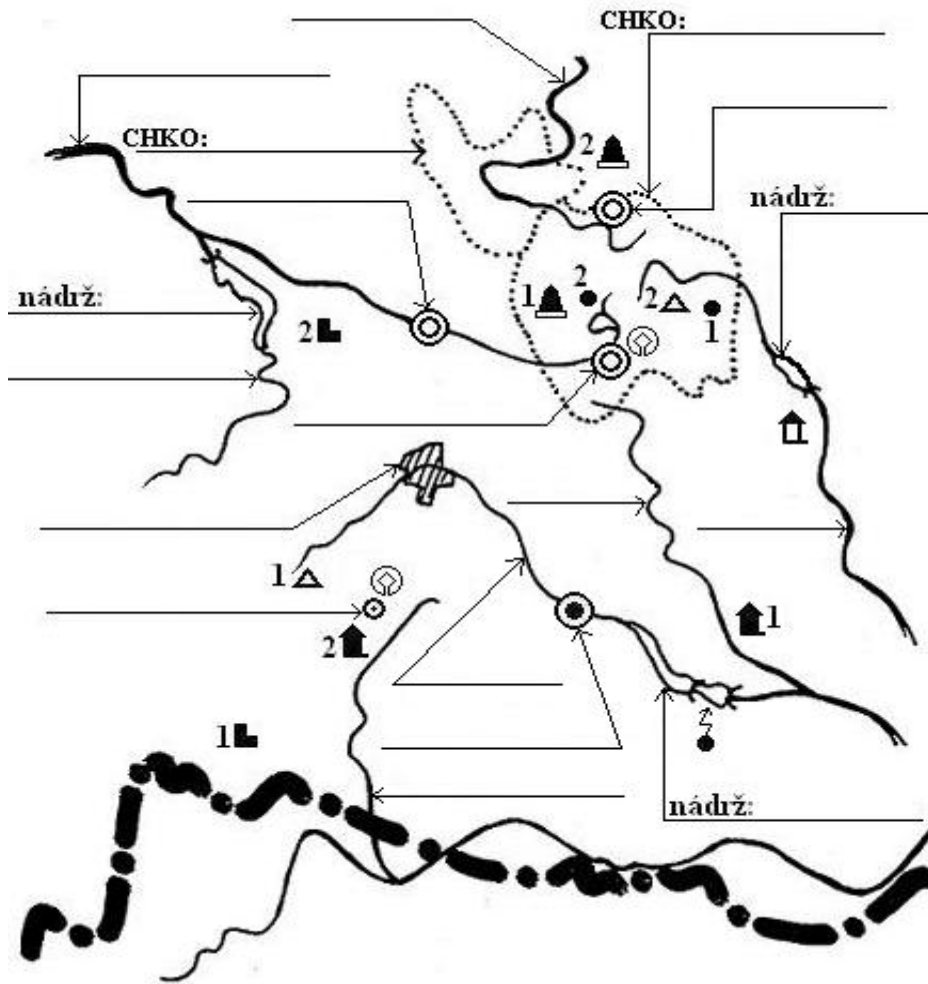
6. ČESKOMORAVSKÁ VRCHOVINA



6. ČESKOMORAVSKÁ VRCHOVINA



6. ČESKOMORAVSKÁ VRCHOVINA



1. Stát, který hraničí s touto oblastí ČR se nazývá _____ . Dopíš do mapky názvy vodních nádrží.

4

2. Doplně řeky: Chrudimka, Jihlava, Moravská Dyje, Oslava, Sázava, Svratka, Želivka. Oslava je _____ přítokem řeky _____, která teče do (země naší vlasti) _____. Želivka je _____ přítokem řeky _____, která teče do (země ČR) _____.

13

3. Dopíš města: Havlíčkův Brod, Hlinsko, Jihlava, Telč, Třebíč, Žďár nad Sázavou. Nejlidnatějším městem Českomoravské vrchoviny je _____. Třebíč má obyvatel _____. K.H.Borovský (novinář) se narodil ve městě _____. Elektropotřebiče značky ETA se vyrábějí v _____. Města s památkou UNESCO jsou _____ a _____.

12

4. Doplně názvy CHKO. Na Českomoravské vrchovině se těží hornina _____, pěstují se plodiny s hlízkami _____ a plodina důležitá v textilním průmyslu _____.

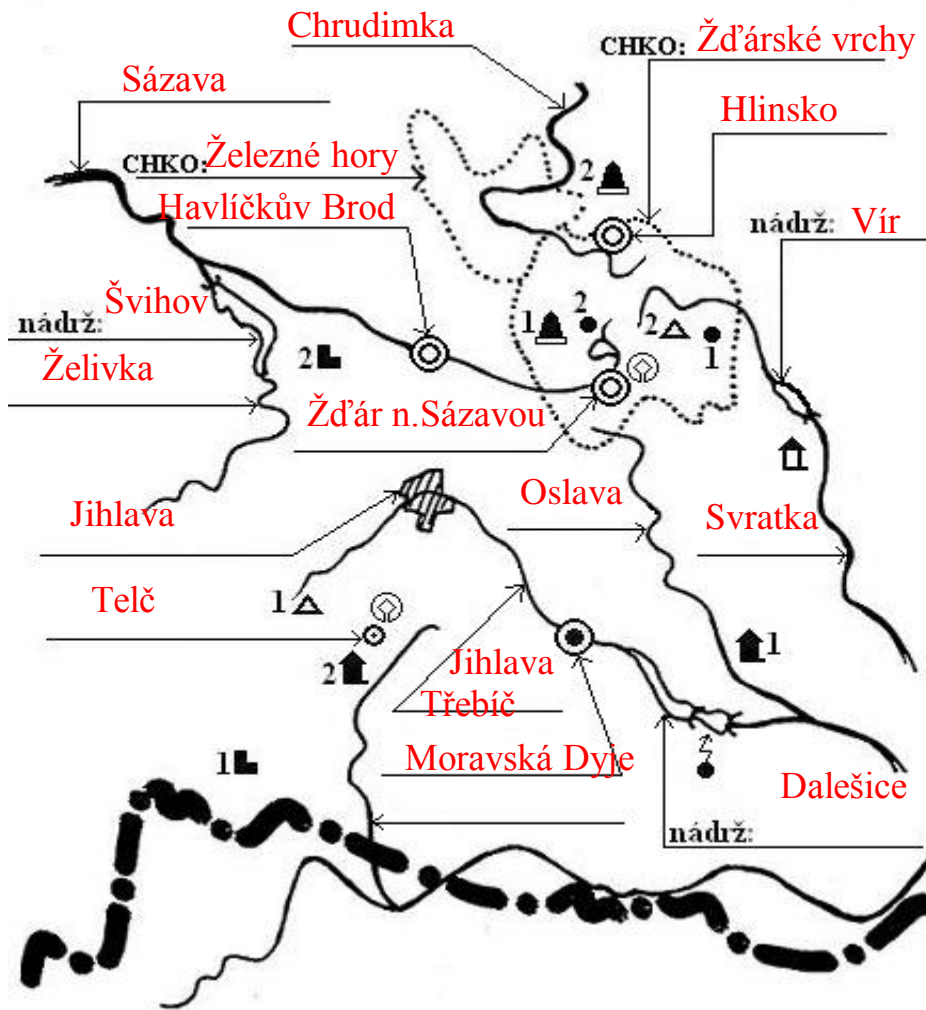
5

5. Doplně ke značce vlastní jméno: 1 Δ _____, 2 Δ _____, 1 \bullet _____, 2 \bullet _____, 1 \triangle _____, 2 \triangle _____, 1 \square _____, \uparrow _____, Z _____, 2 \uparrow _____, 2 \square _____, 1 \uparrow _____.

12

Celkem bodů: 46

6. ČESKOMORAVSKÁ VRCHOVINA



1. Stát, který hraničí s touto oblastí ČR se nazývá **Rakousko** . Dopíš do mapky názvy vodních nádrží.

4

2. Doplně řeky: Chrudimka, Jihlava, Moravská Dyje, Oslava, Sázava, Svratka, Želivka. Oslava je **levým** přítokem řeky **Jihlavy** , která teče do (země naší vlasti) **Moravy** . Želivka je **levým** přítokem řeky **Sázavy** , která teče do (země ČR) **Čech** .

13

3. Dopíš města: Havlíčkův Brod, Hlinsko, Jihlava, Telč, Třebíč, Žďár nad Sázavou. Nejlidnatějším městem Českomoravské vrchoviny je **Jihlava** . Třebíč má obyvatel **25 000 - 50 000** . K.H.Borovský (novinář) se narodil ve městě **Havlíčkův Brod** . Elektrospotřebiče značky ETA se vyrábějí v **Hlinsku** . Města s památkou UNESCO jsou **Žďár nad Sázavou** a **Telč** .

12

4. Doplně názvy CHKO. Na Českomoravské vrchovině se těží hornina **žula** , pěstují se plodiny s hlízami **brambory** a plodina důležitá v textilním průmyslu **len** .

5

5. Doplně ke značce vlastní jméno: 1 ▲ **Javořice** ,
 2 ▲ **Devět skal** , 1 ● **Žákova hora** , 2 ● **Dářko** ,
 1 ▲ **Žižkovo pole** , 2 ▲ **Ležáky** , 1 ■ **Landštejn** ,
 ▲ **Pernštejn** , ☁ **Dukovany** , 2 ▲ **Telč** ,
 2 ■ **Lipnice nad Sázavou** 1 ▲ **Náměšť n Oslavou** .

12

Celkem bodů: 46